

CONCURSUL NAȚIONAL "LA ȘCOALA CU CEAS"
GEOGRAFIE - CLASA a VII-a
31 ianuarie 2026

- Toate subiectele sunt obligatorii. Se acordă 10 puncte din oficiu. Total 100 puncte.
- Timpul efectiv de lucru este de 2 ore.

Subiectul I (10 puncte)

Citiți cu atenție fiecare dintre afirmațiile următoare. Dacă apreciați că afirmația este adevărată **scrieți**, pe foaia de concurs litera **A**, iar dacă apreciați că afirmația este falsă, **scrieți** litera **F**, după modelul 6-A sau 7-F.

1. Asia continentală se întinde, de la vest la est, între Capul Baba și Capul Dejnev.
2. Principalul nod orografic din Asia este Podișul Pamir.
3. Fluviul Mekong formează la vărsarea în ocean cel mai lung estuar din lume.
4. Tundra este vegetația specifică în Peninsula India.
5. După forma de guvernământ, statul Bhutan este monarhie constituțională.

10 puncte

Subiectul II (20 puncte)



Scrieți, pe foaia de concurs, litera corespunzătoare variantei corecte de răspuns:

1. Cea mai mare parte a Câmpiei Mancuierei se întinde pe teritoriul statului:
a. Arabia Saudită b. China c. India d. Rusia
2. Fluviul Gange izvorăște din Munții:
a. Hindukuș b. Himalaya c. Hinganul Mare d. Zagros
3. Se varsă în Marea Arabiei fluviul:
a. Brahmaputra b. Gange c. Indus d. Lena
4. Climatul specific în Arhipelagul Indonezian este:
a. ecuatorial b. mediteraneean c. musonic d. subpolar
5. Lacul vulcanic Toba se află în:
a. China b. Filipine c. Indonezia d. Japonia
6. Solurile de tip laterite sunt specifice în:
a. pădurea ecuatorială b. stepă c. taiga d. tundră
7. Creștinismul se practică în:
a. Bangladesh b. Filipine c. Pakistan d. Turcia
8. Capitala statului Iran este:
a. Ankara b. Bagdad c. Damasc d. Teheran
9. Locuințele temporare, de tip cort, din Mongolia, se numesc:
a. iurte b. izbe c. kraal d. palafite
10. Cel mai mare oraș situat pe fluviul Chang Jiang este:
a. Beijing b. Manila c. Shanghai d. Tokyo

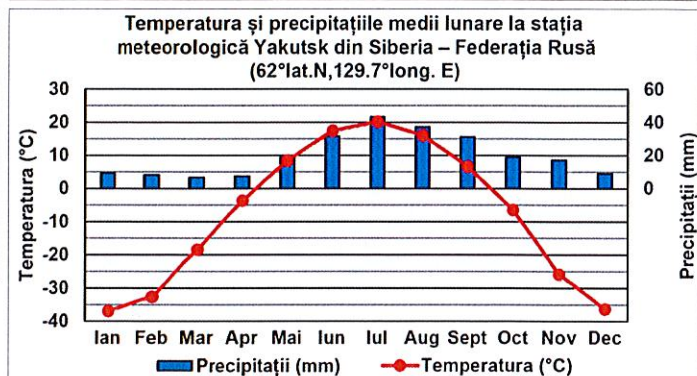
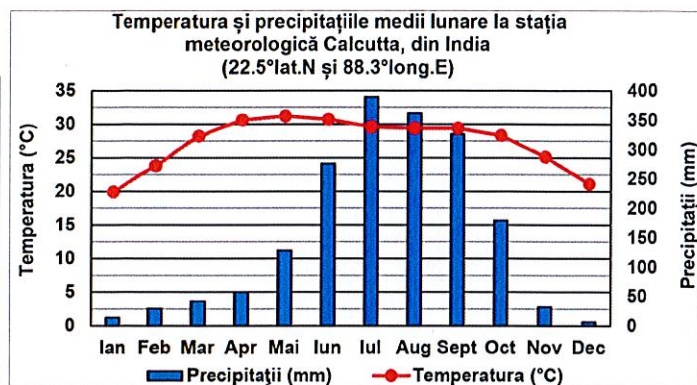
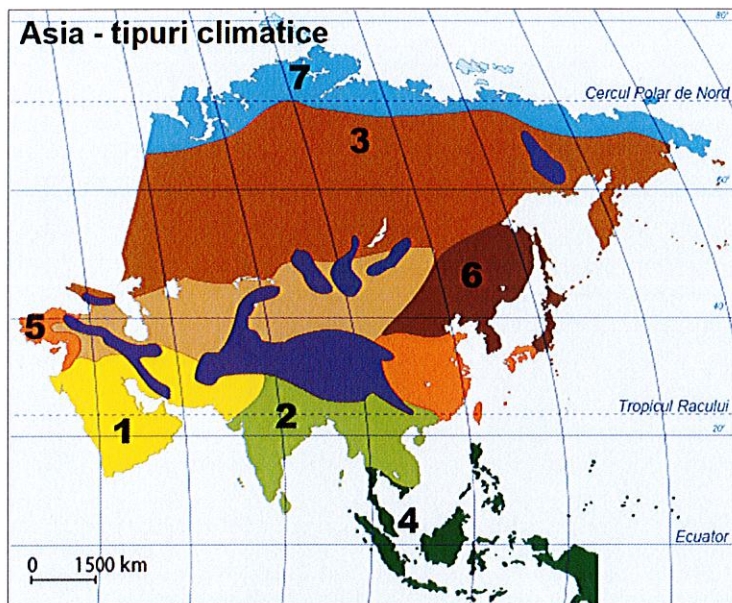
20 puncte

Subiectul III (20 puncte)

Analizați imaginile de mai jos, în care sunt prezentate aspecte ale peisajului geografic din Asia, harta tipurilor climatice ale Asiei, precum și graficele climatice alăturate.



Sursa: <https://www.manuale.edu.ro/>



Precizați:

1. asocierea corectă între peisajele marcate cu litera **a**, **b**, **c** și numerele corespunzătoare tipului climatic, de pe hartă, în care acestea sunt specifice, după modelul *d* – 8;
 2. un factor care determină precipitații abundente vara, în climatul marcat, pe hartă, cu numărul 2;
 3. o asociație vegetală specifică în climatul marcat, pe hartă, cu numărul 5;
 4. valoarea temperaturii minime înregistrate la stația meteorologică Calcutta, precum și luna în care se înregistrează;
 5. valoarea amplitudinii termice medii anuale înregistrate la stația meteorologică Yakutsk, precum și luna în care se înregistrează cea mai mare cantitate de precipitații;
 6. numele unui stat insular aflat în climatul marcat, pe hartă, cu numărul 6.
- 20 puncte**

Subiectul IV (22 puncte)

Analizați harta fizică a Indiei, din imaginea alăturată.

A. Scrieți, pe foaia de concurs, numele:

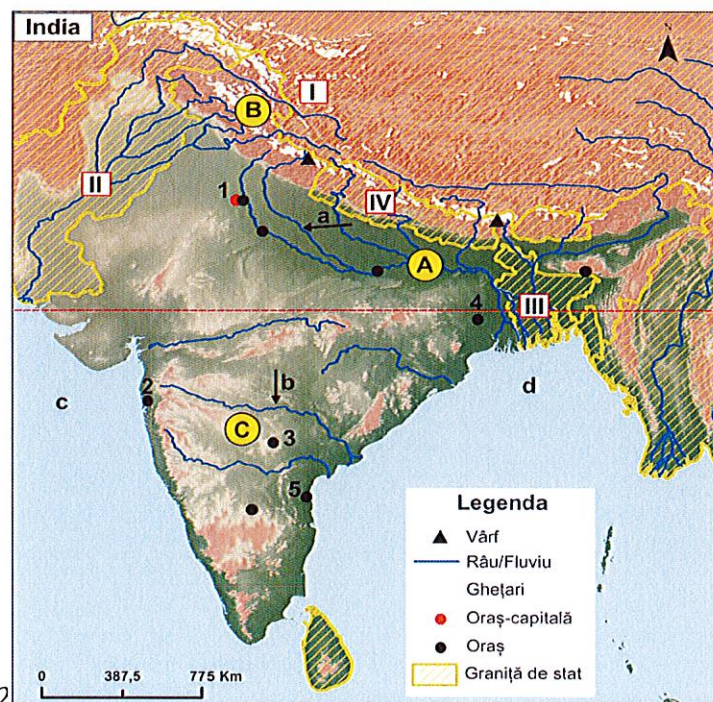
1. statelor vecine marcate, pe hartă, cu numerele romane I, II, III și IV;
2. unităților acvatice marcate, pe hartă, cu litera **c** și **d**;
3. unităților de relief marcate, pe hartă, cu litera **A**, **B** și **C**;
4. fluviilor marcate, pe hartă, cu litera **a** și **b**;
5. orașelor marcate, pe hartă, cu numerele 1, 2, 3, 4 și 5.

16 puncte

B. Pentru India, precizați:

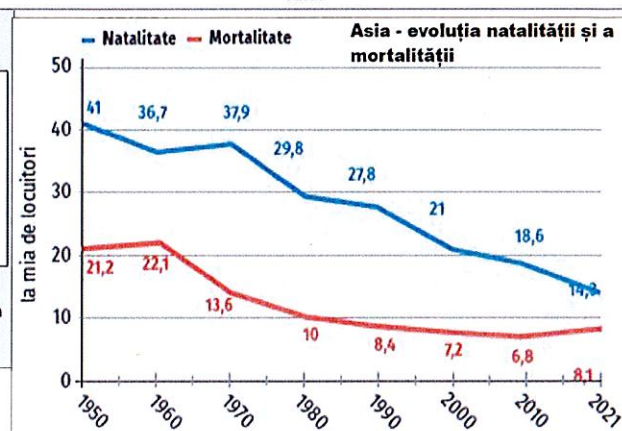
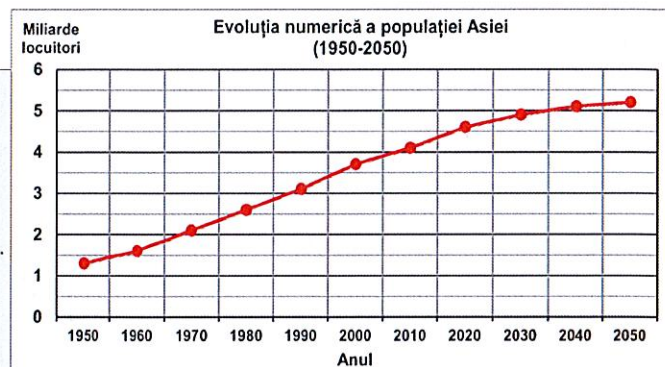
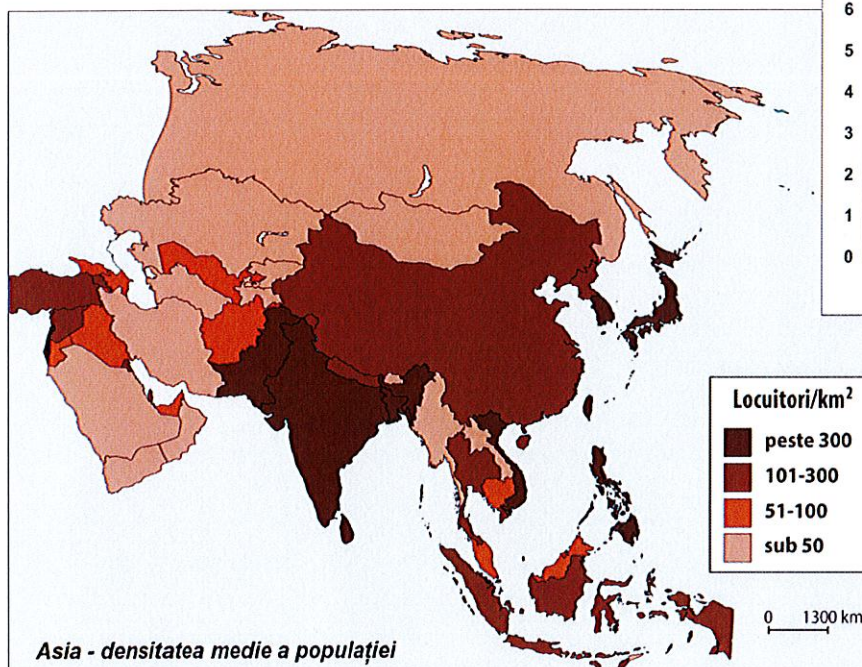
1. forma de guvernământ;
2. două culturi agricole specifice;
3. o caracteristică a populației;
4. două obiective turistice.

6 puncte



Subiectul V (18 puncte)

Analizați harta densității medii a populației continentului Asia și graficele privind evoluția numerică a populației, evoluția natalității și a mortalității din Asia.



A. Scrieți, pe foaia de concurs:

- numele a două state din Regiunea Asia de Sud-Est în care valoarea densității medii a populației depășește 300 de locuitori/km²;
- numele a două state din regiunea Asia de Sud-Vest în care valoarea densității populației este mai mică de 50 de locuitori/km²;
- numărul de locuitori din continentul Asia în anul 2020;
- valoarea natalității înregistrate în Asia în anul 2010.

12 puncte

B. Calculați:

- diferența dintre numărul de locuitori înregistrat în Asia în anul 1950 și numărul de locuitori estimat pentru anul 2050;
- diferența dintre rata natalității înregistrate în anul 1950 și rata natalității înregistrate în anul 2000;
- bilanțul natural al populației pentru anul 2010.

6 puncte

CONCURSUL NAȚIONAL "LA ȘCOALA CU CEAS"
GEOGRAFIE - CLASA a VII-a

31 ianuarie 2026

BAREM DE EVALUARE ȘI DE NOTARE

CLASA a VII-a

- Se punctează oricare alte formulări / modalități de rezolvare corectă a cerințelor.
- Nu se acordă punctaje intermediare, altele decât cele precizate explicit prin barem.

Subiectul I 10 puncte

Se acordă câte **2 puncte** pentru fiecare răspuns corect:

1. A; 2. A; 3. F; 4. F; 5. A.

Total = 10 puncte

Subiectul II 20 puncte

Se acordă câte **2 puncte** pentru fiecare răspuns corect:

1. b; 2. b; 3. c; 4. a; 5. c; 6. a; 7. b; 8. d; 9. a; 10. c.

Total = 20 puncte

Subiectul III20 puncte

Se acordă câte **2 puncte** pentru fiecare răspuns corect:

1. a - 3; b - 1; c - 4; - **6p**;
2. un factor: musonul de vară/vânturi care bat dinspre ocean/climat tropical umed cu două anotimpuri impuse de circulația sezonieră a musonilor etc. - **2p**;
3. vegetație mediteraneană/maquis - **2p**;
4. 20⁰ C, luna ianuarie - **4p**;
5. 56⁰C/57⁰C - **2p**; iulie - **2p**;
6. Japonia - **2p**.

Total = 20 puncte

Subiectul IV 22 puncte

Se acordă câte **1 punct** pentru fiecare răspuns corect:

A. 1. I - China ; II - Pakistan; III - Bangladesh; IV - Nepal

2. c - Marea Arabiei; d - Golful Bengal/Oceanul Indian

3. A - Câmpia Gangelui; B - Munții Himalaya; C - Podișul Deccan

4. a - Gange; b - Godavari.

5. 1 - New Delhi; 2 - Mumbai/Bombay; 3 - Hyderabad; 4 - Calcutta; 5 - Chennai/Madras.

Total IVA = 16 puncte

B. Se acordă câte **1 punct** pentru fiecare răspuns corect:

1. republică parlamentară, stat federal;- **1p**
2. orez, bumbac, ceai, trestie-de-zahăr, condimente, grâu etc.; - **2p**
3. exemplu: India este cel mai populat stat din Asia și din lume; -**1p**
4. Taj Mahal, Agra, Templul Kashi etc.- **2p**

Total IVB = 6 puncte

Total Subiectul IV (A+B) = 22 puncte

Subiectul V 18 puncte

A. Se acordă câte **2 puncte** pentru fiecare răspuns corect, astfel:

1. exemplu: Filipine, Vietnam;
2. exemplu: Iran, Arabia Saudită, Yemen, Oman;
3. 4,5 mld. locuitori;
4. 18,6 la mia de locuitori.

Total VA = 12 puncte

B. Se acordă câte **2 puncte** pentru fiecare răspuns corect, astfel:

1. $5,2 \text{ mld} - 1,3 \text{ mld} = 3,9 \text{ mld. locuitori}$; se acceptă orice valoare cuprinsă între 3,9 mld. și 4,2 mld. locuitori;
2. $41 - 21 = 20$ la mia de locuitori;
3. $18,6 - 6,8 = 11,8$ la mia de locuitori.

Total VB = 6 puncte

TOTAL Subiectul V(A+B) = 18 puncte

TOTAL (SI + SII + SIII + SIV) = 90 PUNCTE

OFICIU = 10 PUNCTE